

Unità 6 | Un mondo di disuguaglianze

CHE COSA SAI?



LE DONNE, SECONDO TE, GUADAGNANO COME GLI UOMINI?



IN QUALI PAESI I BAMBINI SONO COSTRETTI A LAVORARE E NON VANNO A SCUOLA?



IL DIRITTO A CURARSI È PER TUTTI?



CHE COSA IMPARERAI

LEZIONE 1

**Il divario tra ricchi e poveri oggi**

La distribuzione della ricchezza nel mondo d'oggi è assai squilibrata. Il reddito medio dei paesi ricchi è superiore ai 30 000 euro pro capite, mentre nei paesi più poveri dell'Africa si arriva a soli 600 euro annui.

LEZIONE 2

**Esiste ancora la fame nel mondo?**

Ancor oggi nel mondo 795 milioni di persone soffrono la fame; al tempo stesso nei paesi più ricchi 670 milioni di individui soffrono di obesità.

LEZIONE 3

**L'accesso alla salute e all'istruzione**

L'accesso alle cure mediche e all'istruzione è migliorato negli ultimi decenni. Tuttavia gli analfabeti sono tuttora 757 milioni e oltre 400 milioni di persone non hanno accesso ad alcuna cura medica.

LEZIONE 4

**I divari di genere e l'infanzia violata**

Le donne soffrono di condizioni di vita inferiori rispetto a quelle degli uomini. Questo fenomeno è soprattutto evidente in diverse regioni del Sud del mondo.

Oggi vi sono ancora nel mondo oltre 150 milioni di lavoratori minorenni illegali, spesso impiegati in lavorazioni pericolose e nocive. Oltre 80 milioni di minori sono inoltre abbandonati dalle famiglie a causa della povertà.

**Lezione 1**



# Il divario tra ricchi e poveri oggi

» **Come è distribuita la ricchezza tra le varie regioni del mondo?**

Nel mondo d'oggi la **distribuzione geografica della ricchezza è molto squilibrata**. Il reddito medio per ogni abitante della Terra risulta essere di circa 13 500 euro, considerando il **diverso costo della vita (PIL/PPA)** nei vari paesi (► *unità 1*).

Questo dato, però, nasconde realtà molto diverse: esso raggiunge infatti una media di 30 000 euro nelle nazioni più avanzate abitate da circa 1,2 miliardi di persone, mentre scende notevolmente nei paesi a basso o medio livello di sviluppo, dove vivono 6 miliardi di individui.

Si va dai circa **9000 euro dell'America centro-meridionale**, ai **4500 euro dell'Asia meridionale** fino ad arrivare ai **minimi di 500-600 euro di diversi paesi dell'Africa subsahariana**. Sebbene la globalizzazione abbia promosso negli ultimi anni lo sviluppo di molti paesi asiatici e sudamericani, ancora oggi si avverte una tendenza all'aumento del divario nel reddito tra paesi ricchi e paesi poveri.

» **Come è distribuita la ricchezza tra le classi sociali?**

Le disuguaglianze sono enormi se si pensa che l'**1% più ricco** della popolazione mondiale (70 milioni di persone) detiene il **48% della ricchezza globale** e ha un reddito pro capite di 2,5 milioni di euro. Anche nei paesi più avanzati negli ultimi anni è aumentato il divario tra il reddito della fascia più ricca e quello delle classi meno abbienti.

**COMPETENZA SISTEMA TERRITORIALE**

**1 Lavora con la carta e l'immagine**

Osserva la carta e **rispondi** alle domande.

- In quale continente la percentuale di coloro che vivono con meno di 1 euro al giorno è più alta? E in quale area (nord, centro, sud) è addirittura superiore al 60%?
- Com'è la situazione del continente americano?
- E quella dell'Est europeo?



Scena quotidiana in uno *slum* di Mumbai (India).

**COMPETENZA COMUNICAZIONE NELLA MADRELINGUA**

**2 Lavora sul testo**

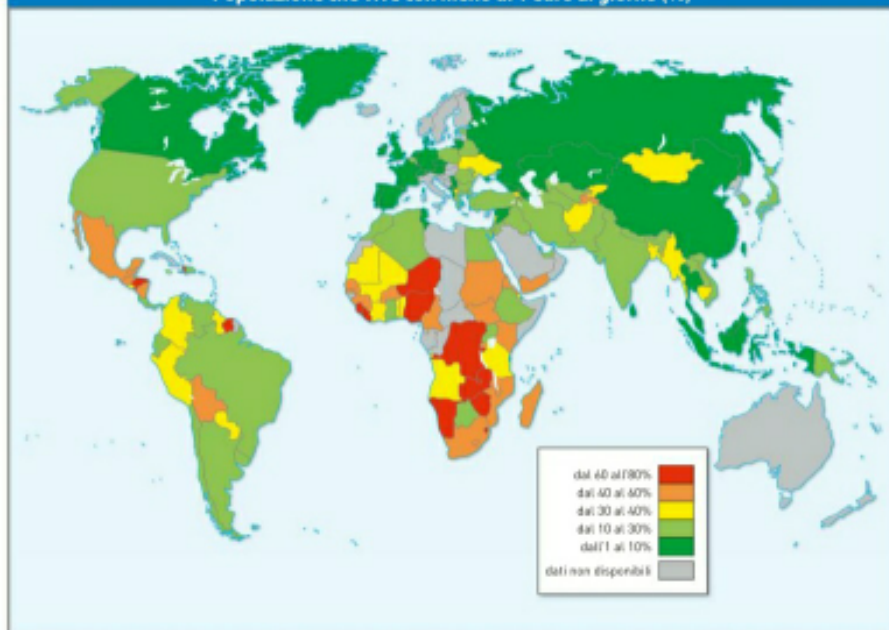
**Cerchia** i dati relativi al reddito per abitante (PIL/PPA) nei paesi sviluppati, in America Latina, in Asia meridionale e nei paesi subsahariani dell'Africa.

**Sottolinea** il reddito pro capite annuo dell'1% più ricco della popolazione mondiale.

**Evidenzia** nel testo le risposte.

- Quante sono le persone in stato di povertà estrema?
- Qual è la condizione dei "poveri non estremi"?

Popolazione che vive con meno di 1 euro al giorno (%)



### » In cosa consiste lo stato di povertà estrema?

Negli ultimi 25 anni circa **1 miliardo di persone** (tra cui 600 milioni di cinesi e 250 milioni di indiani) **sono uscite dallo stato di povertà estrema**, che consiste nel possesso di un reddito inferiore a 1 euro al giorno. Nel 2015, comunque, la povertà estrema interessa ancora circa il **10% della popolazione mondiale** (703 milioni di persone).

A questa cifra vanno però aggiunti i cosiddetti "poveri non estremi", 3 miliardi di persone che vivono con circa 3,6 euro al giorno. Costoro non muoiono di fame, ma di fatto non posseggono quasi nulla.

### » Che cos'è l'ISU?

L'**Indice di Sviluppo Umano (ISU)** (► unità 1), che **misura** in modo più preciso il **grado di benessere di una nazione**, conferma le disuguaglianze nel tenore di vita.

I valori dell'ISU variano infatti da 0 a 1: più si avvicinano all'unità, maggiore è il grado di sviluppo. I paesi più ricchi hanno un ISU superiore allo 0,8, mentre i più poveri si attestano intorno allo 0,4.

### Geo news

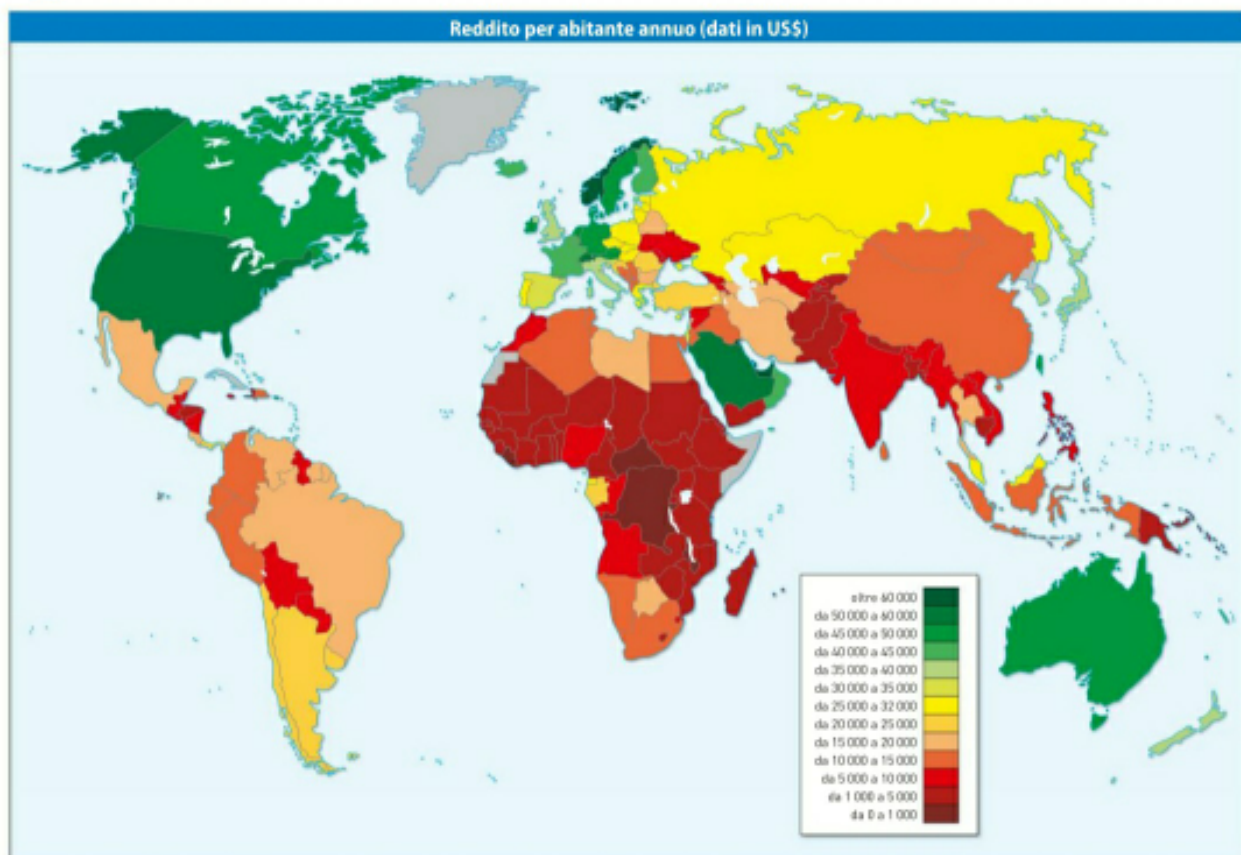
Secondo Oxfam, una delle più grandi organizzazioni no profit del pianeta, le 85 persone più ricche del mondo hanno lo stesso reddito annuo dei 3,5 miliardi di persone che costituiscono il 50% più povero.

## COMPETENZA SISTEMA TERRITORIALE

### 1 Lavora con la carta

**Osserva** la carta e **svolgi** le attività; per aiutarti utilizza l'atlante alla fine del libro.

- Quali paesi asiatici hanno un reddito superiore a 35 000 dollari?
- E in Oceania?
- E nel Nord America?



Lezione 2



# Esiste ancora la fame nel mondo?

## » Quali sono le differenze nel consumo di cibo?

Oggi la popolazione mondiale consuma mediamente **2800 calorie al giorno per abitante**, una quantità superiore alle 2100 calorie ritenute sufficienti dall'OMS (Organizzazione Mondiale della Sanità) a garantire una corretta alimentazione. Però il dato medio nasconde realtà molto differenti: si va infatti dalle oltre 3600 calorie di USA, Francia o del Kuwait alle 1600 del Burundi.

## » Quanti oggi soffrono la fame?

A partire dal 2000 **la fame nel mondo si è ridotta sensibilmente**. Tuttavia circa 800 milioni di persone, **l'11% della popolazione mondiale** – un numero inaccettabilmente alto – **soffrono tuttora in modo continuativo di denutrizione**, cioè non hanno cibo a sufficienza. Le situazioni più gravi si registrano in una trentina di paesi dell'Africa subsahariana e dell'Asia meridionale.

A causa della fame circa **161 milioni di bambini soffrono di ritardo nella crescita**, tra questi 20 milioni circa nascono **sottopeso**, perché le loro madri erano denutrite durante la gravidanza.

Secondo la **FAO** (Organizzazione delle Nazioni Unite per l'Alimentazione e l'Agricoltura) almeno 2 miliardi di persone soffrono di malnutrizione, cioè di **un'alimentazione carente di proteine, vitamine e sali minerali**.

## » Quali sono oggi le cause principali della fame?


Negli ultimi decenni sono scomparse le grandi catastrofi alimentari (carestie) e oggi la carenza di cibo è causata principalmente da **conflitti armati e catastrofi naturali**. Spesso si tratta di **guerre civili** difficilmente controllabili, che distruggono i sistemi alimentari, provocano carestie e costringono la popolazione civile a fuggire.

## » Quali sono gli squilibri alimentari nei paesi avanzati?

Nei paesi più avanzati la denutrizione interessa poche persone appartenenti a fasce sociali in difficoltà.

Si registra, invece, un **consumo eccessivo di carni e di grassi**, unitamente all'assunzione smodata di **bevande gassate** e di alimenti di scarsa qualità ricchi di **zuccheri** (il cosiddetto «cibo spazzatura»).

Ciò ha portato all'aumento di **malattie cardiovascolari** e del **diabete**.



Bambini africani che ricevono aiuti umanitari.



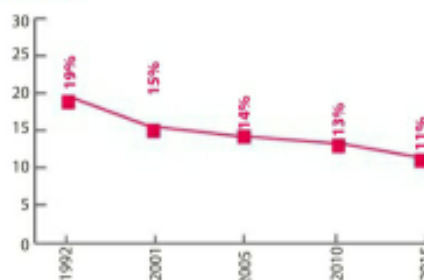
## » I cinque paesi con la maggior percentuale di uomini obesi (sopra i 20 anni)

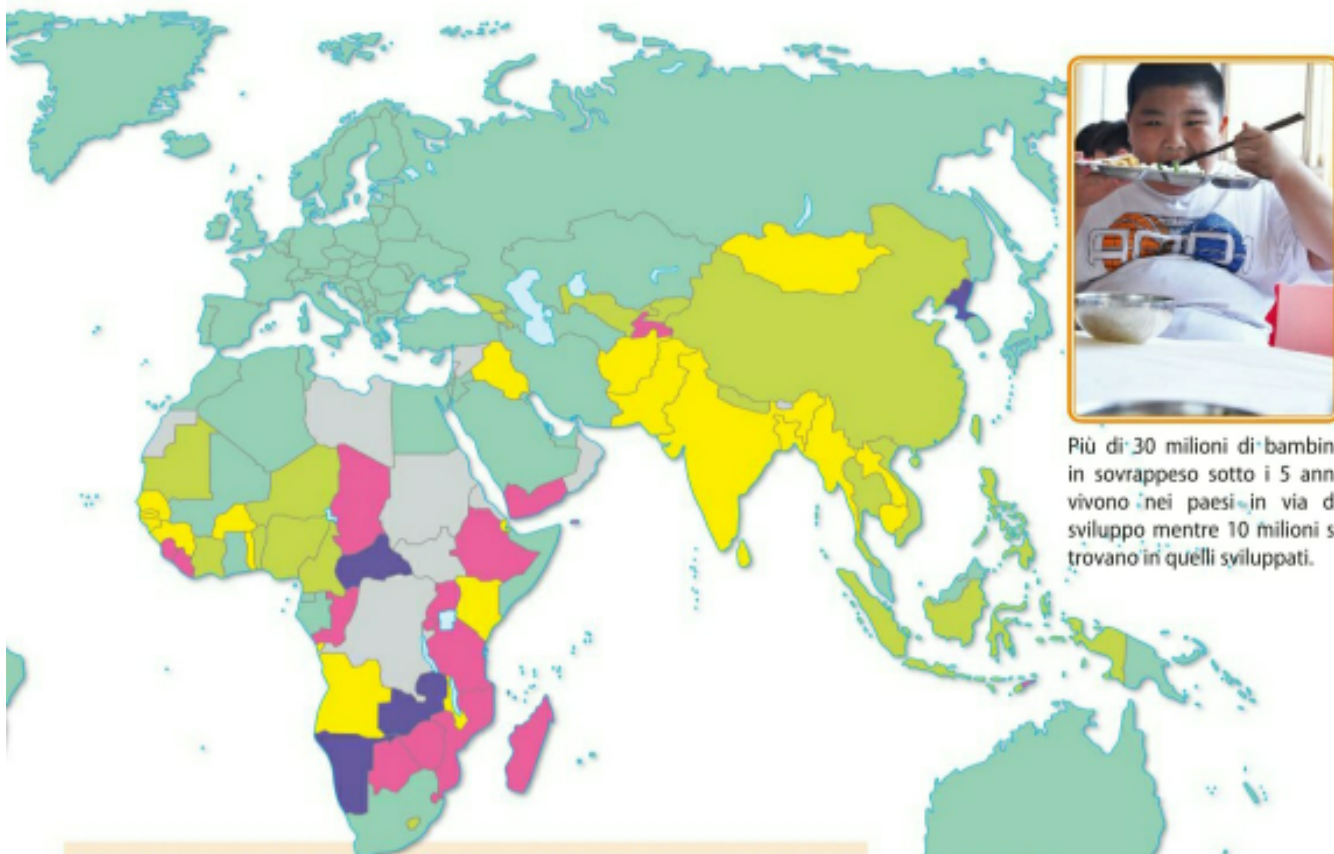


## » I cinque paesi con la maggior percentuale di donne obese (sopra i 20 anni)



## » Percentuale di persone denutrite nel mondo





Più di 30 milioni di bambini in sovrappeso sotto i 5 anni vivono nei paesi in via di sviluppo mentre 10 milioni si trovano in quelli sviluppati.

» Il caso del Mali



Il conflitto in Mali e la fame	
popolazione denutrita	4,1 %
bambini minori di 5 anni deperiti	12,7%
bambini minori di 5 anni con ritardo della crescita	38,35%
bambini che muoiono prima di raggiungere l'anno di età	12,3%

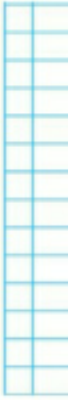
Il Mali, stato dell'Africa occidentale, dal 2000 aveva compiuto notevoli progressi nella riduzione della malnutrizione, ma la situazione alimentare è di nuovo peggiorata nel 2012, a causa dello scoppio di un violento conflitto civile che ha costretto molti abitanti alla fuga.



COMPETENZA IMPARA A IMPARARE  
SCRIVILO IN 50 PAROLE

Leggi il testo, osserva la carta, le immagini e rispondi

- a. Quale è l'andamento della fame nel mondo negli ultimi anni?
- b. Quali sono le aree del mondo in cui la popolazione soffre la fame? Quali sono le conseguenze?
- c. Perché il Mali ha visto aumentare il numero della popolazione denutrita dopo il 2012?
- d. Quali sono le conseguenze di un eccesso di consumo di calorie?



**Lezione 3**



L'accesso  
alla salute  
e all'istruzione

» **In quali paesi la situazione sanitaria è difficile?**

Oggi circa 400 milioni di persone, perlopiù concentrate nei **paesi del Sud del mondo**, **non hanno accesso a cure sanitarie** e vivono in ambienti **privi di condizioni igieniche adeguate**. Solo il 18% della spesa sanitaria mondiale è impiegato nei paesi a basso e medio sviluppo economico, dove si riscontra la maggior parte dei problemi di salute più gravi e dove vive la maggior parte della popolazione globale.

» **Quali sono i divari nella speranza di vita e nella mortalità infantile?**

Nei **paesi sviluppati la speranza di vita si aggira intorno agli 80 anni**, per scendere gradualmente ai 75 in America Latina, ai 67 dell'Asia meridionale e ai 57 dell'Africa subsahariana. Gli stati "più longevi" raggiungono gli 83 anni (Giappone, Svezia, Svizzera, Islanda), mentre i **meno fortunati non raggiungono i 50 anni** (Sierra Leone 46, Botswana 47, Lesotho 49).

La **mortalità infantile (sotto i 5 anni) si è dimezzata negli ultimi 20 anni**, tuttora però muoiono ogni anno 6 milioni di bambini. Anche in questo caso, però, si registrano enormi differenze: mentre in Europa muoiono 4 bambini su 1000, in America Latina le morti salgono a 19, nell'Asia meridionale a 53 e nell'Africa subsahariana a 83.

» **Quali sono le malattie infettive più diffuse nei paesi in via di sviluppo?**

Nei **paesi progrediti le malattie infettive sono quasi scomparse**, mentre nei paesi meno sviluppati del mondo determinano ancora il 56% della mortalità.

Ciò dipende dalla povertà, dalla **carezza di igiene e di personale medico** e anche dalle condizioni climatiche che, nelle zone intertropicali, favoriscono il propagarsi di batteri e virus patogeni, cioè portatori di malattie infettive.

Le malattie infettive più diffuse e pericolose sono l'**AIDS**, la **tubercolosi** e la **malaria** a cui si aggiungono diverse infezioni gastrointestinali e alle vie respiratorie. **L'AIDS ha provocato nel 2015 la morte di 1,5 milioni** di individui ed è particolarmente diffusa

COMPETENZA  
COMUNICAZIONE  
NELLA MADRELINGUA

**1 Lavora sul testo**

**Evidenzia** i paesi con la maggiore speranza di vita e quelli con la più bassa.

**Completa lo schema:**

**a.** Le cause della diffusione delle malattie infettive nei paesi poveri sono: .....

**b.** Le cause dell'analfabetismo nei paesi poveri sono: .....

COMPETENZA SISTEMA TERRITORIALE

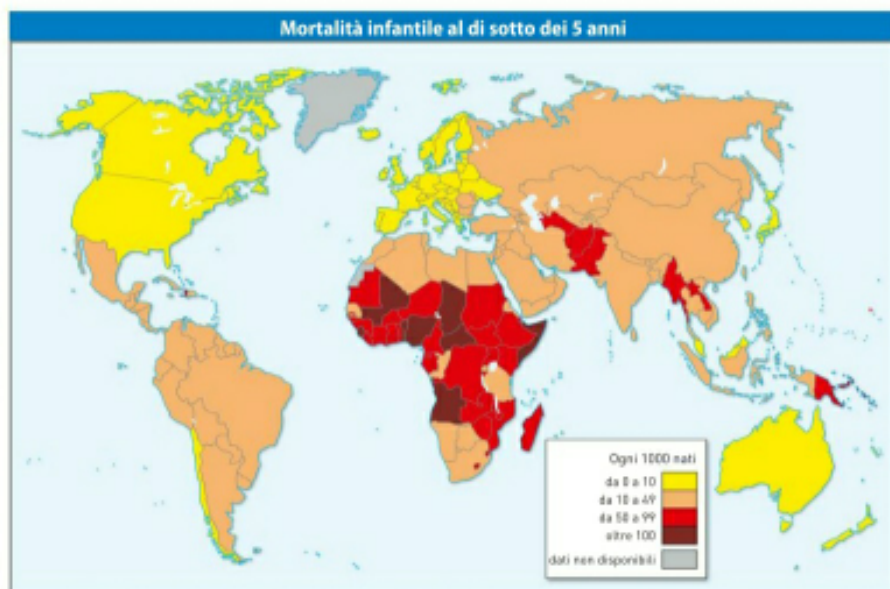
**2 Lavora con la carta e l'immagine**

**Osserva** la carta e l'immagine e con l'aiuto dell'atlante alla fine del libro, individua:

- a.** Almeno 4 paesi in cui la mortalità infantile è superiore a 100 (su 1000);
- b.** Almeno 4 paesi in cui la mortalità infantile è inferiore a 10 (su 1000).
- c.** Il dato della mortalità e la posizione della Repubblica Centrafricana.



Un ospedale a Bangui (Repubblica Centrafricana).



nell'Africa subsahariana, dove si concentrano oltre i due terzi dei 32,6 milioni di ammalati. La **tubercolosi**, malattia molto contagiosa che colpisce i polmoni, è dopo l'AIDS la principale causa di morte al mondo. La **malaria**, provocata dalla puntura di un tipo di zanzara un tempo diffusa ovunque, colpisce oggi i paesi della fascia tropicale.

» **Quali sono le malattie causa di morte nei paesi sviluppati?**

Nei paesi più sviluppati prevalgono, invece, tra le cause di mortalità le **malattie** come il **cancro**, il **diabete**, i **disturbi cardiaci**, le **malattie broncopolmonari**.

In forte crescita sono le patologie neuro-degenerative come l'**Alzheimer** o la **demenza senile**. La maggior parte di queste malattie è legata all'inattività fisica, ai comportamenti alimentari e all'inquinamento ambientale.

» **Quanti sono gli analfabeti nel mondo e che cos'è l'analfabetismo di ritorno?**

Negli ultimi 50 anni l'istruzione ha fatto molti passi in avanti: tuttavia gli **analfabeti sono ancora 757 milioni** e di questi **115 milioni sono giovani sotto i 15 anni**.

Sono concentrati per il **75% in Asia e Africa** e i due terzi di costoro sono **donne**, particolarmente discriminate ed escluse dalle scuole. In molti paesi poveri, i bambini sono costretti a rinunciare all'istruzione a causa del lavoro minorile, della povertà, dell'analfabetismo dei genitori e della mancanza di scuole e trasporti. Spesso per raggiungere le scuole elementari i bambini dei villaggi africani devono percorrere diversi chilometri a piedi tutti i giorni.

Le differenze nei livelli di istruzione sono in gran parte determinate dall'entità dei fondi che i diversi governi forniscono alle istituzioni scolastiche; per questo in quasi tutti i **paesi avanzati il tasso di alfabetizzazione sfiora il 100%**. In molti paesi avanzati esiste, però, il problema dell'**analfabetismo di ritorno**, ovvero la perdita della capacità di leggere e di scrivere dovuta alla mancanza di esercizio, che in particolare colpisce la popolazione adulta delle classi meno abbienti.

COMPETENZA SISTEMA TERRITORIALE

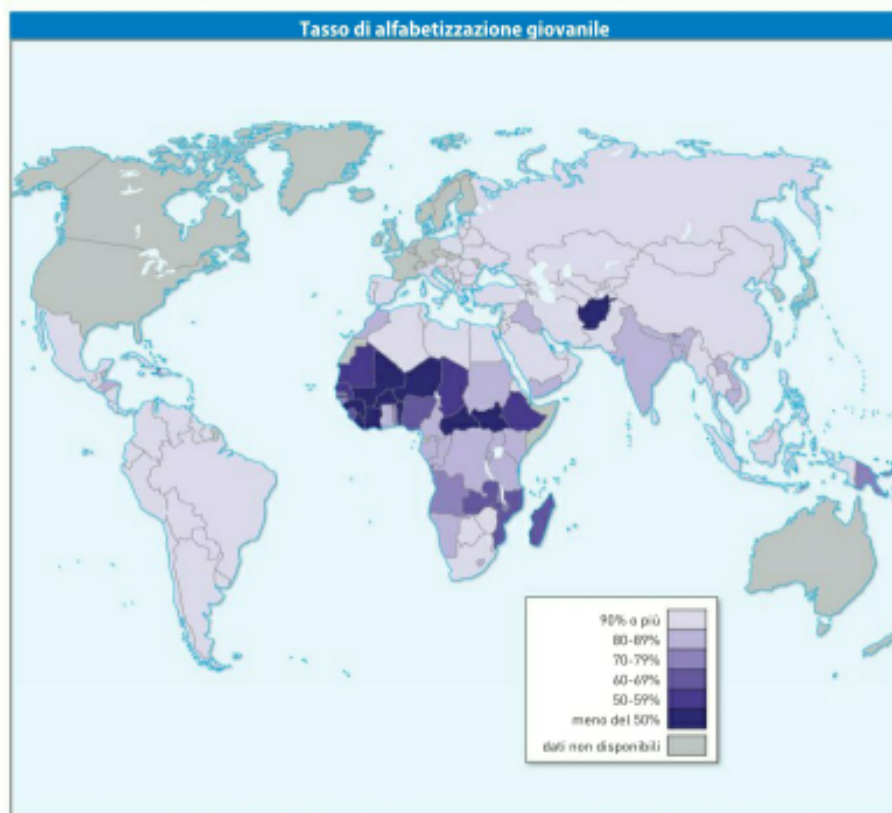
» **Lavora con la carta e l'immagine**

**Oserva la carta e utilizza l'atlante alla fine del libro.**

- In quali regioni del mondo il tasso di alfabetizzazione giovanile è inferiore al 50%?
- Qual è la situazione dell'Italia?
- Il paese nell'immagine quale tasso di alfabetizzazione ha?



Una classe a Nairobi (Kenya).



## Lezione 4



## I divari di genere e l'infanzia violata

**delitto d'onore**

Quello compiuto dal marito o dai parenti che uccidono la donna «per aver compromesso la loro reputazione».

## COMPETENZA COMUNICAZIONE NELLA MADRELINGUA

## 1 Lavora sul testo

Completa lo schema.

- a. Le cause della riduzione in schiavitù o dell'abbandono dei minori nel mondo:

1. ....
2. ....
3. ....

**Cerchia** il numero dei lavoratori minorenni illegali nel mondo, dei minorenni impiegati in lavori pericolosi, dei minori abbandonati.

**Sottolinea** i dati relativi alle differenze di genere nella speranza di vita.

## » In quali paesi e per quali motivi le donne sono discriminate?

Nel mondo d'oggi ci sono notevoli **disuguaglianze nelle condizioni di uomini e donne**: ciò è vero soprattutto **nei paesi più poveri** e per le donne economicamente più deboli e meno istruite dei paesi sviluppati.

Nel **Sud del mondo** le disparità tra i sessi sono causate innanzitutto dalle minori risorse messe a disposizione per le donne nell'istruzione e nelle cure mediche.

Un ruolo rilevante è ricoperto dalle **tradizioni culturali**: per esempio, in un paese molto ricco come l'Arabia Saudita la donna vive in una situazione di forte inferiorità, tanto che non le è permesso neppure guidare l'automobile.

## » Che cos'è l'Indice di Equità di Genere?

Il grado di equità delle condizioni di uomini e donne si può misurare attraverso l'**Indice di Equità di Genere (GEI, Gender Equity Index)**. Il GEI – i cui valori variano da 0 a 1 – si basa sulla **speranza di vita e sull'accesso al lavoro e all'istruzione delle donne**. I **dati più positivi** per la condizione femminile si riscontrano nei paesi del **Nord Europa**, mentre i **peggiori nell'Africa subsahariana e nell'Asia meridionale**.

Nei paesi ricchi le donne vivono in media 5-7 anni più degli uomini, in quelli poveri invece questa differenza si accorcia e in alcuni casi si capovolge. Nel **Sud del mondo solo il 60% delle donne ha accesso alle scuole elementari**, perché spesso devono svolgere attività domestiche o lavorare nei campi. Inoltre le donne, meno accudite dei maschi, sono indebolite dai numerosi partì che fin da giovanissime devono affrontare.

## » Quali sono le forme più diffuse di violenza contro le donne?

La piaga più grave resta la **violenza contro le donne**: ogni anno milioni di donne, **anche nei paesi più avanzati**, sono vittime di violenze in ambito familiare. In molti paesi (Pakistan, Arabia Saudita) le leggi dello stato autorizzano o tollerano i **delitti d'onore**. In India molte giovani donne sono vittime di incidenti domestici simulati dalla famiglia del marito spesso insoddisfatta della dote portata dalla sposa. Infine, ogni anno **4 milioni di donne** sono comprate e vendute come **schiave** o prostitute o vengono rapite per essere sposate giovanissime contro la loro volontà: nei paesi in via

## COMPETENZA LINGUAGGIO DELLA GEOGRAFIA

## 2 Lavora con la tabella

Osserva i dati nella tabella e rispondi alle domande.

- a. Quali tra i primi 10 paesi per equità di genere non sono europei?
- b. Dove si trovano i 10 peggiori paesi per equità di genere?

L'Indice di Equità di Genere da 0 (più basso) a 1 (più alto) dei primi 10 e degli ultimi 10 paesi

1	Islanda	0.8594	133	Marocco	0.5988
2	Finlandia	0.8453	134	Giordania	0.5968
3	Norvegia	0.8374	135	Libano	0.5923
4	Svezia	0.8165	136	Costa d'Avorio	0.5874
5	Danimarca	0.8025	137	Iran	0.5811
6	Nicaragua	0.7894	138	Mali	0.5779
7	Ruanda	0.7854	139	Siria	0.5775
8	Irlanda	0.7850	140	Ciad	0.5764
9	Filippine	0.7814	141	Pakistan	0.5522
10	Belgio	0.7809	142	Yemen	0.5145



di sviluppo il 20% delle ragazze si sposa prima dei 15 anni (solo il 4% dei maschi). Nei paesi coinvolti in guerre, infine, l'80% dei profughi è costituito da donne, che subiscono spesso violenze di ogni tipo.

» **Qual è la situazione dei bambini in molti paesi poveri?**

Le condizioni dell'infanzia in molti paesi poveri sono drammatiche. Nel mondo, benché il fenomeno sia in diminuzione, ancora **più di 150 milioni di minori** (di cui oltre il 70% ha un'età compresa tra 5 e i 14 anni) **lavorano illegalmente**, spesso a tempo pieno, e sono **privati di un'educazione scolastica e di un'assistenza sanitaria adeguata**.

Inoltre **74 milioni di bambini** sono impiegati in varie forme di **lavoro pericoloso**, come il lavoro in miniera, a contatto con sostanze chimiche e pesticidi agricoli o con macchinari pericolosi. La maggior parte di essi vive nei paesi meno sviluppati.

» **Qual è la situazione dei bambini schiavi?**

Inoltre, circa **8 milioni di minori sono ridotti in schiavitù**: essi sono costretti a lavorare forzatamente nelle piantagioni o in fabbrica, a rubare o a chiedere la carità oppure ad arruolarsi come bambini-soldato in eserciti.

Al tempo stesso alcune **organizzazioni criminali sfruttano i bambini** per il commercio sessuale, il traffico di organi e lo spaccio di droga. Molti bambini si trovano in questa situazione perché sono stati rapiti oppure vengono venduti dalle famiglie stesse, che non sono in grado di pagare i propri debiti; le prede preferite dai mercanti di schiavi sono le bambine, costrette poi a lavorare come domestiche o prostitute.

» **Dove è diffuso il fenomeno dell'abbandono dei minori?**

A ciò si aggiunge il fenomeno dei **bambini abbandonati** che vivono per strada: sono circa **80 milioni in tutto il mondo**, la metà dei quali si concentra nei paesi dell'America centro-meridionale, soprattutto in Brasile. Vivono di espedienti, sono vittime della violenza degli adulti, svolgono lavori saltuari, rubano o chiedono l'elemosina, soffrendo la fame e dormendo all'aperto.

COMPETENZA LINGUAGGIO DELLA GEOGRAFIA



**Lavora con il grafico**

Osserva il grafico e completa il testo.

I lavoratori minorenni si concentrano in

..... e in .....



Bambini (5-11 anni) impiegati in lavori illegali nel mondo (%)



COMPETENZA DIGITALE

**Lavora con internet**

Osserva i dati della tabella e fai una breve **ricerca** sulla piaga delle spose-bambine. Quale paese detiene un triste primato in questo campo?

Donne sposate prima dei 18 anni nel mondo (%)

Paese/regione	% donne sposate sotto i 18 anni
India	33
Asia Orientale e Pacifico	25
Asia Meridionale	9
America Latina e Caraibi	9
Africa Occ. e Centrale	7
Africa Orientale Meridionale	6
Medio Oriente e Nord Africa	5
Europa Centro-Orientale	4
Paesi del Nord del mondo	2



# VERIFICHE

## Che cosa hai imparato

### Parole da inserire:

150 milioni • 48 % • 795 milioni • 50 anni



Nel Nord del mondo  
eccesso di grassi  
e proteine

di persone soffrono di  
denutrizione in modo  
continuativo

Il 10% della  
popolazione mondiale  
vive con meno di 1€ al  
giorno

Forti differenze  
tra i paesi del Nord  
e del Sud del mondo

DISTRIBUZIONE  
DELLA RICCHEZZA

Denutrizione

Malnutrizione

L'1% della  
popolazione mondiale  
possiede il .....  
della ricchezza globale

**UN MONDO DI  
DISUGUAGLIANZE**

ALIMENTAZIONE

Nel Sud del mondo  
alimentazione  
carente di proteine,  
vitamine e sali  
minerali

DIVARI DI GENERE  
E INFANZIA VIOLATA



Maggiore  
discriminazione delle  
donne nei paesi  
poveri

.....  
di bambini lavorano  
illegalmente

SALUTE E  
ISTRUZIONE

Minore speranza di  
vita nei paesi poveri



Scarso accesso  
all'istruzione nei paesi  
poveri

Malattie infettive  
(tubercolosi, malaria,  
AIDS)

Dopo aver studiato l'unità, completa il riassunto utilizzando le parole proposte. Il numero fa riferimento alle lezioni

- La distribuzione della ricchezza oggi è molto .....  
..... Il reddito medio per abitante dei paesi più sviluppati è pari a ..... pro capite, mentre nell'Africa Subsahariana arriva a ..... euro annui. Le condizioni di vita di un paese si misurano attraverso l'..... che è l'Indice di Sviluppo Umano.
- Oggi la popolazione mondiale consuma mediamente 2800 kilocalorie al giorno. Nei paesi meno sviluppati però il consumo di calorie è ..... Il ..... della popolazione soffre di denutrizione, anche se la fame nel mondo si è ..... sensibilmente. La malnutrizione è un'alimentazione carente di....., vitamine, sali minerali. Nei paesi più sviluppati si registra invece un consumo eccessivo di ..... che portano all'aumento di ..... e diabete
- La speranza di vita dei paesi sviluppati si aggira intorno agli ..... anni mentre nei paesi dell'Africa Subsahariana è di ..... anni. La mortalità infantile si è ..... negli ultimi 20 anni ma tuttora muoiono milioni di bambini. La più pericolosa malattia killer al mondo, assieme all'AIDS, nei paesi meno sviluppati è la ..... mentre nei paesi più sviluppati sono le malattie come il cancro e le patologie neuro-degenerative.  
Gli analfabeti nel mondo sono concentrati per il 75% in ..... e sono 757 milioni, di cui 115 milioni sotto ai 15 anni. La differenza nei livelli di istruzione dipende dall'entità dei fondi che i governi destinano all'istruzione.
- L'indice chiamato ..... misura l'equità di genere ed è basato sulla speranza di vita, sull'accesso all'istruzione e al lavoro per le donne. Ogni anno milioni di donne sia dei paesi avanzati che dei paesi poveri sono vittime di violenze, molte sono costrette a sposarsi contro la loro volontà. Il fenomeno del lavoro minorile, sebbene in diminuzione, è ancora consistente, infatti più di 150 milioni di minori lavorano illegalmente anche in ambiti pericoloso come in ..... a contatto con sostanze chimiche e pesticidi o con macchinari pericolosi. Inoltre molti bambini sono vittime di schiavitù, vengono abbandonati e sono sfruttati da organizzazioni .....

**Parole da inserire:** GEI • tubercolosi • 57 • disturbi cardiaci • squilibrata • miniera • criminali • 30 000 euro • 500-600 • ISU • scarso • 11% • ridotta • Asia e Africa • proteine • carni e di grassi • 80 • dimezzata

## Verifica le tue conoscenze



### 1 Scrivi il significato dei seguenti termini

Analfabetismo di ritorno: .....

Denutrizione: .....

FAO: .....

GEI: .....

Malnutrizione: .....

OMS: .....

### 2 Individua il completamento corretto



- Malnutrizione e denutrizione sono collegate:
  - a un basso livello di ISU.
  - alla presenza di climi tropicali.
  - alla presenza di regimi dittatoriali.
- Secondo il GEI, le migliori condizioni per le donne si riscontrano nei paesi:
  - del Nordeuropa e del Nordamerica.
  - dell'Africa subsahariana e dell'Asia meridionale.
  - dell'Asia centrale e dell'Africa meridionale.
- La denutrizione colpisce soprattutto:
  - America meridionale.
  - Oceania.
  - l'Africa subsahariana.

## Metti alla prova le tue competenze

### COMPETENZA ORIENTAMENTO

#### 1 Lavora con la carta muta

**Indica** sulla carta almeno 5 paesi in cui si vive con meno di un euro al giorno.

**Colora** i paesi in cui si registrano i valori più alti di denutrizione.

**Indica** l'area in cui si registra la maggior percentuale di bambini (5-14 anni) impiegati in lavori minorili illegali.



### COMPETENZA LINGUAGGIO DELLA GEOGRAFIA

#### 2 Lavora con le immagini

**Osserva** le immagini e completa le didascalie. Cerca i dati relativi a ISU, analfabetismo e mortalità infantile dei due paesi.



Porto Novo, capitale del Benin.

1. ....  
.....



Berlino, capitale della Germania.

2. ....  
.....